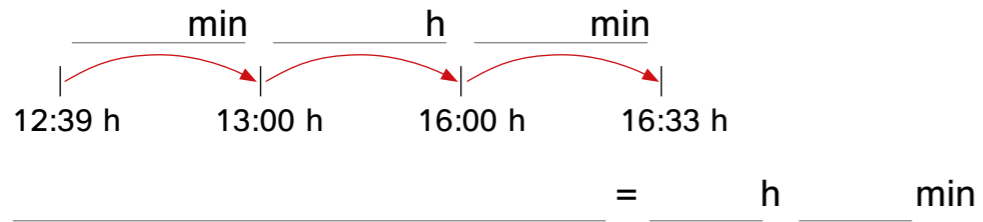
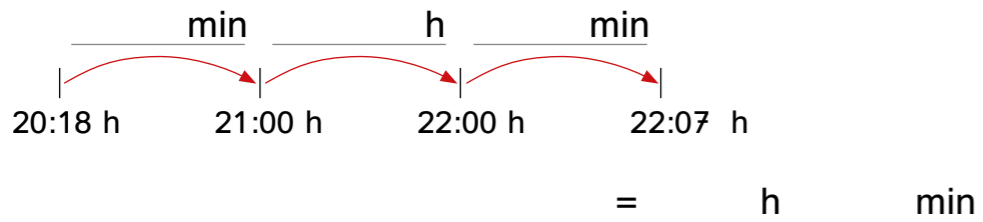


Wie viel Zeit ist vergangen? Schreibe auf.

Von 12:39 Uhr bis 16:33 Uhr:

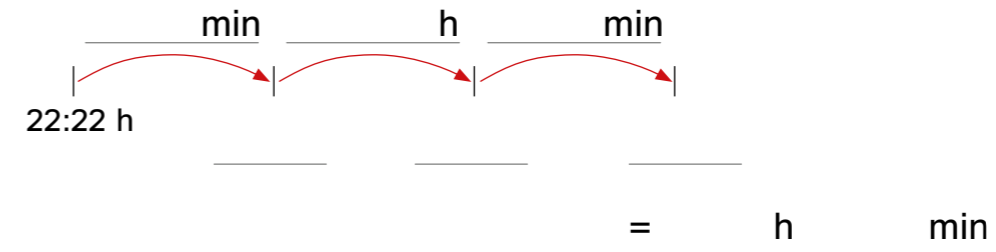


Von 20:18 Uhr bis 22:07 Uhr:



Wie viel Zeit ist vergangen? Schreibe auf.

Von 22:22 Uhr bis 23:17 Uhr:



Von 9:42 Uhr bis 18:34 Uhr:

